

DENEME SINAVI - 6
SÖZEL BÖLÜM

Adı ve Soyadı :

Sınıf / Şubesi :

Öğrenci Numarası :

DERS ADI	SORU SAYISI	TOPLAM SORU SAYISI	SINAV SÜRESİ (DAKİKA)
TÜRKÇE	20	50	75
SOSYAL BİLGİLER	10		
DİN KÜLTÜRÜ VE AHLAK BİLGİSİ	10		
İNGİLİZCE	10		

ÖĞRENCİLERİN DİKKATİNE

1. Sınıf öğrenci yoklama listesinde belirtilen sınıfta ve sıra numarasında oturunuz.
2. Cevap kâğıdındaki kimlik bilgilerinin doğruluğunu kontrol ediniz.
3. Kitapçık türünü cevap kâğıdındaki ilgili alana kodlayınız.
4. Cevap kâğıdı üzerindeki kodlamaları kurşun kalemle yapınız.
5. Puanlama; her test için yanlış cevap sayısının üçte biri, doğru cevap sayısından çıkarılarak elde edilecek geçerli cevaplar üzerinden yapılacağı için cevap kâğıdı üzerinde rastgele cevaplama yapmayınız.

**SINAVA BAŞLAMADAN ÖNCE
KİTAPÇIĞIN ARKA KAPAĞINDAKİ UYARILARI MUTLAKA OKUYUNUZ.**

1. Bizim orası küçük bir yerdi. Küçük yerde büyük görünmek çok zor olmasa gerek. Ben daha lisedeyken ilin tek gazetesinde yazılar yazmaya başlamıştım. Benim için herkes “Kalemi kuvvetli, maşallah!” diyordu.

Bu parçada geçen “kalemi kuvvetli” sözüyle anlatılmak istenen aşağıdakilerden hangisidir?

- A) Çok konuşan, herkese laf yetiştiren
B) Söz söylemesini bilen veya ağzına söz yakışan
C) Okunmaya değer, etkili ve güzel yazabilen
D) Yazılarıyla birbirine sataşan, polemik yaratan
2. I. kardeş olarak yaşamak gibi
II. ancak bu arada
III. kuşlar gibi uçmayı
IV. çok basit bir sanatı unuttuk
V. balıklar gibi yüzmeyi öğrendik

Numaralanmış sözcükler anlamlı ve kurallı bir cümle oluşturacak biçimde sıralandığında hangisi baştan üçüncü olur?

- A) I. B) II. C) III. D) IV.

3. Ölümsüz yazarlardan Voltaire’in, Diderot’nun kitaplarını açın. Dünyayı sarmış, bütün bir düzeni yıkmış olan o yazılarda sizin de kendi kendinize bildiklerinizden, çevrenizin size duyurmaksızın bellettiklerinden başka bir şey bulamazsınız. O kadar ki insanın “Bunları da ne diye yazmışlar?” diyeceği gelir. Voltaire’in de Diderot’nun da bugün yine okunmaları düşündüklerinin doğruluğundan veya derinliğinden değil, söyleyişlerinin güzelliğindedir. Her sayfada insan “Bildiğimiz bir şey ama ne hoş söylenmiş!” der.

Bu parçaya göre bir eseri ölümsüz kılan aşağıdakilerden hangisidir?

- A) İçeriği B) Üslubu
C) Edebî türü D) Anlatıcısı

4. Evliya Çelebi, “Seyahatname”sinde gezip gördüğü yerleri kendine has anlatımıyla bizlere aktarmaktadır. Ünlü seyyah bu anlatımda mübalağa (abartma) sanatını oldukça başarılı bir şekilde kullanır.

Buna göre “Seyahatname”de Erzurum soğğunun anlatıldığı,

- I. Bir kere bir kedi, bir damdan bir dama atlarken aralıkta donup kalır. Sekiz ay sonra bahar gelince kedinin buzu çözülür ve kedi “mırnav” deyip yere düşer.
II. Kışın şiddetinden bağ ve bahçesi yoktur. Yer yer kış elması, ahlat armudu vardır ama başka yemişi yok. Gezinti yerlerinde kavak ve söğüt ağaçları çoktur.
III. Azak diyarında ve kırk gün devam eden kara kış, şiddetli soğuk geçirdik ama böyle keskin kış görmedik. Ancak halkı gayet sağlam vücutludur.

bölmelerinden hangileri sözü edilen anlatım tarzını örneklemektedir?

- A) Yalnız I. B) I ve II.
C) I ve III. D) II ve III.

5. • Beğeni, herhangi bir kişi ya da olaydan duyulan memnuniyeti anlatmaktır.
• Pişmanlık, yapılan bir hata sonucunda duyulan üzüntüyü dile getirmektir.
• Özlem; bilinen bir kişiyi ya da yeri görme, geçmişte yaşadığı şeyleri yaşama isteğini ifade etmektir.


Bu tanımlara göre,

- I. Çocukken mahallede koşuşturduğum günleri mumla arıyorum.
II. Sait Faik Abasıyanık’ın bütün hikâyelerini keyifle okudum.
III. Keşke sınav kâğıdımı teslim etmeden önce son kez kontrol etseydim.

cümlelerine hâkim olan duygular aşağıdakilerin hangisinde doğru verilmiştir?

	Beğeni	Pişmanlık	Özlem
A)	I	II	III
B)	II	I	II
C)	III	II	I
D)	II	III	I

6.



Bu görseli en iyi ifade eden metin aşağıdakilerden hangisidir?

- A) İnsan yaşamı boyunca birçok şeyi tek başına yapabilir ama hayatı boyunca başkaları ile iş birliği içinde olmadan ve birlikte hareket etmeden tam anlamıyla başarıya ulaşamaz. Hayatın zorlu kılvarında adımlarınızı atarken aşılması gereken zorluklar ile karşılaştığımızda o zorluğu yanımızda olanlar sayesinde güç birliği yaparak aşabiliriz.
- B) Mutluluk bir sanattır. Kendimizden ve başkalarından hoşnut ve doyumlu olduğumuz zaman hissettiklerimizdir. Mutluluk, dışarıdaki dünyaya bakmaktan ziyade içeriye bakmakla sağlanır. Dış dünya geçici mutluluk sağlayabilir. Ancak kendi içsel dünyamız bize sürekli mutluluk verebilir. Hiç kimseye veya hiçbir şeye bize sürekli mutluluk vermesi için dayanamayız.
- C) Bazen, kendimizi tehlikede hissederek tehlike olmadığı hâlde duygularımızla hareket ederiz. Beynimizin “Kaybedeceğin hiçbir şey yok, artık dibe vurdun.” dediği koşullarda alarm sistemini susturup ortada ne kadar risk varsa alır, tehlikenin kucağına atlayabiliriz.
- D) Başarılı olmak, bir şeyleri başarmak hemen herkesin ortak hedefidir. Ancak kimileri için başarı kendiliğinden geliyormuşçasına kolayken kimileri için de bir türlü varılmayan yol gibidir. Şüphesiz ki bu yolda doğru yöntem ve teknikler kullanıldığı takdirde başarı elde edilebilir.

7. Zarflar cümlelere durum, zaman veya yer-yön anlamı katabilir.

Buna göre “Tiyatroya olan ilgim - - - - başladı.” **cümlesinde boş bırakılan yere,**

- I. yaz tatilinde
II. İstanbul’da
III. ilkokulda
IV. tesadüfen

ifadelerinden hangileri getirilirse cümlede zaman anlamı taşıyan zarf kullanılmış olur?

- A) I ve II. B) I ve III.
C) II ve III. D) II ve IV.

8. Etmek, edilmek, eylemek, olmak, olunmak yardımcı fiilleriyle kurulan birleşik fiiller, ilk kelimesinde herhangi bir ses düşmesi veya türemesine uğramazsa ayrı yazılır.

Buna göre aşağıdaki cümlelerden hangisinde birleşik fiil yanlış yazılmıştır?

- A) Yaşadığımız olumsuzluklara karşı sabır etmeyi bilmeliyiz.
B) Kendini müziğin ritmine kaptırıp saatlerce dans etti.
C) Ben burada var olduğum sürece işinizi yapabilirsiniz.
D) Terliyken soğuk su içtiniz için hepiniz hasta oldunuz.

9. Sıra sayıları yazıyla ve rakamla gösterilebilir. Rakamla gösterilmesi durumunda ya rakamdan sonra bir nokta konur ya da rakamdan sonra kesme işareti konularak derece gösteren ek yazılır.

UYARI: Sıra sayıları ekle gösterildiklerinde rakamdan sonra sadece kesme işareti ve ek yazılır, ayrıca nokta konmaz.

Buna göre aşağıdaki cümlelerin hangisinde sayıların yazımıyla ilgili yanlışlık yapılmıştır?

- A) Bu yıl düzenlenen okullar arası futbol tur-nuvasında 2.’nci olduk.
B) Lionel Messi, altıncı kez dünyanın en iyi futbolcusu seçildi.
C) Öğretmenimiz bizim karşı binanın 3. katında oturuyor.
D) Ünlü atlet iddialı olduğu yarışı 9’uncu sırada tamamladı.

10. Buz tırmanışı, soğuk kış günlerinde yapılabilecek belki de en heyecanlı doğa sporlarından biridir. Bu sporda bazen buzla kaplı bir dağa, bazen de donmuş bir şelaleye tırmanılır. Yani metrelerce yükseğe... Peki bu sporu yaparken hangi araç gereçler kullanılır? Buz tırmanışı yapmak için uygun zaman nedir? Neleri bilmek gerekir? Tüm bu soruların yanıtını “Buz Tırmanışı” adlı yazımızdan öğrenebilirsiniz.

Buna göre “Buz Tırmanışı” adıyla tanıtılan yazıda aşağıdaki metinlerden hangisine yer verilmesi beklenmez?

- A) Buz tırmanışı yapan sporcular botlarına krampon adı verilen tabanlıklar takar. Buz çekici ve buz kazması da bu spor dalının olmazsa olmazlarındandır. Sporcular tırmanırken çekicinin ve kazmanın sivri ve tırtıklı uçlarını buza saplayıp kendilerini yukarıya doğru çekerler.
- B) Tırmanışlar genellikle sabahın erken saatlerinde sıcaklık düşükken ve güneş henüz yükselmemişken yapılır. Çünkü bu saatlerde buzların erimesi daha güçtür. Ülkemizde buz tırmanışı yapmaya en uygun aylar ocak ve şubatır.
- C) Buzun kırılgan bir yapıda olması ve artan hava sıcaklığıyla buzların hızla erimeye başlaması dikkat edilmesi gereken durumlardır. Ayrıca yeterli eğitim almamış, teknik bilgilere sahip olmayan kişilerin buz tırmanışını denememesi gerekir.
- D) Buz tırmanışı 19. yüzyılın başlarında kendini gösterdi. Zaman içerisinde yeni ekipmanların tasarlanmasıyla buz tırmanışı kolaylaşarak yaygınlaştı. Bugün ise teknolojinin gelişmesi ile çok üst düzey ekipmanlar yapılmış ve buz tırmanışı sporu neredeyse herkes için güvenli hâle geldi.
11. • Kuyruk oluşan bankamatiklerden birinde sıraya girdiğiniz anda diğerleri daha hızlı ilerlemeye başlar.
- Arabayı yıkattığınızın ertesi günü berbat ve çamurlu bir yağmur yağar.
 - Aradığınız bir şeyi hep en son baktığınız yerde bulursunuz.

Bu ifadeler aşağıdaki kanunlardan hangisini örneklendirmek için kullanılabilir?

- A) **Murphy Kanunu** ABD’li mühendis Murphy tarafından başarısızlıklar ve hata kaynaklarının karmaşık sistemlerde incelenmesi üzerine ortaya konan özdeyişlerdir. Murphy Kanunu’nun temeli şu söze dayanır: Ters gidebilecek her şey ters gider.
- B) **Yhprum Kanunu** Harvard Üniversitesinden Richard Zeckhauser tarafından Murphy Kanunları’nın tersi olarak ortaya atılmıştır. Yhprum Kanunu’nun basit bir özeti “Çalışabilen her şey, çalışır.” olarak gösterilebilir.
- C) **Clarke Kanunu** Arthur C. Clarke’in ortaya attığı kanun şöyle ifade edilebilir: Tanınmış ve yaşını almış bir bilimci bir şeyin mümkün olduğunu iddia ediyorsa neredeyse kesinlikle haklıdır. Aynı kişi bir şeyin imkânsız olduğunu iddia ettiğinde ise büyük olasılıkla yanılıyordur.
- D) **Gresham Kanunu** 16. yüzyılda İngiltere Mali Danışmanı olan Sir Thomas Gresham’ın öncülüğünü yaptığı kanun, kısaca “kötü paranın iyi parayı kovması” kanunudur. Bu kanuna göre, yazılı değerleri aynı fakat külçe değerleri farklı iki madeni paradan külçe değeri yüksek olan dolaşımdan çekilir.

12.



Aşağıdaki atasözlerinden hangisi bu görselde verilmek istenen mesajı en iyi ifade etmektedir?

- A) El elin eşeğini türkü çağırarak arar.
C) Elin ağzı torba değil ki büzesin.

- B) Evladın var mı derdin var.
D) Sütten ağzı yanan yoğurdu üfleyerek yer.

13. • Varlıkların belirgin ve ayırt edici özellikleri okuyucunun gözünde canlanacak biçimde anlatılmıştır.

- Birden fazla varlık arasındaki benzerlik veya farklılıklar ortaya konmuştur.
- Anlatım 1. tekil şahıs (ben) ağzıyla yapılmıştır.

Aşağıdaki metinlerin hangisinde bu özelliklerin tümü yer almaktadır?

- A) Tozlu bir ayna, odanın küçük bir parçasını yansıtmaya çalışıyordu. İki tahta sandalye, bir tahta masa, bir gömme dolap, küçük kırmızı bir halı vardı. Pirinç karyola, çevresindeki tahta eşyaya tepeden bakarak sanki onu prenseslerden başkasının kullanmasına alışık değilmiş gibi kibirle, ayrı bir köşede duruyordu.
- B) Kalın yün paltosu, bir un çuvalı kadar geniş beline sımsıkı oturmuş, zayıf dizlerinin üstünde sallanıyordu. Kocaman pabuçlarının üstüne kalın yün çorapları düşmüştü. İçine yün bir fanila, onun üstüne yün kazak, sonra da battaniyeyi andıran kalın paltosunu giymişti. Dedemin giyinişine bakılırsa sanki dışarıda kar yağıyordu.
- C) Uyandığımda gün ışıdı. Giyinip aşağıya indim. Büyük halam ortalarda görünmüyordu. Belki de çiçeklerle ilgileniyordur, diye düşündüm. Yaşlılar erken uyanıklardı ne de olsa. Üstelik büyük halam ailede güne ilk başlayan kişiydi. Dışarı çıkıp bir süre çevreyi inceledim.
- D) Kadın kapıdan çekildiğinde Peren içeriye çabucak göz attı. Evin girişi oldukça genişti. Tüm mobilyalara beyaz hâkimdi. Tuhaf bir şekilde, zaman durmuş duygusu uyandırıyor insanı. Az sonra Kuzey, siyah saçlarını iyice belirginleştiren uçuk mavi tişörtünün yakasını çektişirerek kapıya çıktı.

14. Bir savunma sanatı olan aikidoda ileri seviyelere gelenler bellerine “hakama” adı verilen, etek ve pantolon karışımı geniş bir giysi bağlar. Hakama, siyah ya da lacivert renkte olur. Hakamanın yedi pilisi (kumaş, kâğıt vb.nde bir bölümün öbürünün üzerine getirilmesiyle oluşturulan kıvrım) bulunur. Pililer; cesaret, merhamet, adalet, nezaket, dürüstlük, sadakat, onur kavramlarını temsil eder.

Buna göre aşağıdaki sporculardan hangisinin üzerindeki kıyafet “hakama” olarak adlandırılır?

A)



B)



C)



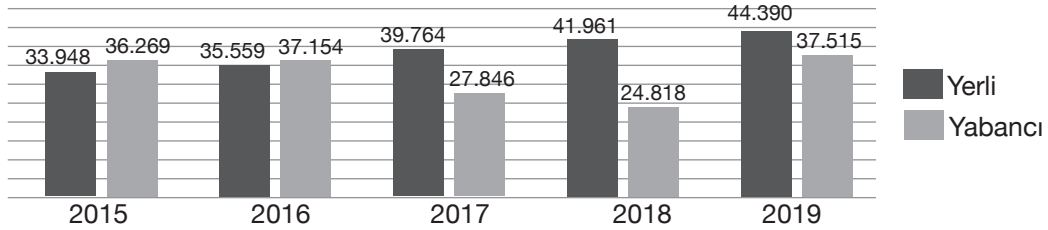
D)



15. Aşağıdaki metinlerden hangisi “Pek çok hayvan, zamanının çoğunu ağaçlar üzerinde geçirir.” düşüncesini desteklemektedir?

- A) Tavşanlar ağaçların yapraklarıyla ve yere düşen dalların kabuklarıyla beslenirken, ağaçkakanlar ağaçların kabuğunun altında bulunan öz suyuyla beslenir. Sincaplar ağaçların tohumlarını, kangurular yaprak ve meyvelerini; zürafalarsa yapraklarını, dallarını, meyvelerini ve tohumlarını yer.
- B) Kaplanlar ağaçların gövdelerine pençeler atar. Çevrelerine de kokularını bırakır. Böylece ağacı ve çevresini işaretlemiş olur. Bunu o alanın kendilerine ait olduğunu diğer kaplanlara bildirmek için yapar.
- C) Kuşlar yuvalarını ağaç dallarına kurar ve yavrularını burada büyütür. Leoparlar dinlenmek için ağaçlara çıkarken dev pandalar oyun oynamak ya da tehlikelerden korunmak için ağaçlara tırmanır. Koalalarsa neredeyse tüm günlerini aynı ağaç üzerinde beslenip uyuyarak geçirir.
- D) Kuşlar genellikle meyveleri, tohumları ve böcekleri yiyerek beslenir. Soğuk ve karlı kış günlerindeyse pek çok hayvan gibi kuşlar da yiyecek bulmakta zorlanabilir. Göçmen kuşlar yiyeceğin bol olduğu sıcak yerlere gider.

16. Aşağıdaki grafik 2015-2019 yılları arasında mart aylarında İzmir’e gelen yerli ve yabancı turist sayısını göstermektedir.



Bu grafikten hareketle mart aylarında İzmir’e gelen yerli ve yabancı turist sayısı ile ilgili,

- I. 2017 yılından itibaren yerli turist sayısının, yabancı turist sayısını geçtiği
- II. Yabancı turist sayısı son beş yılda sürekli arttığı
- III. Yerli ve yabancı turist sayısı arasındaki en büyük farkın 2018 yılında olduğu

çıkarımlarından hangileri yapılabilir?

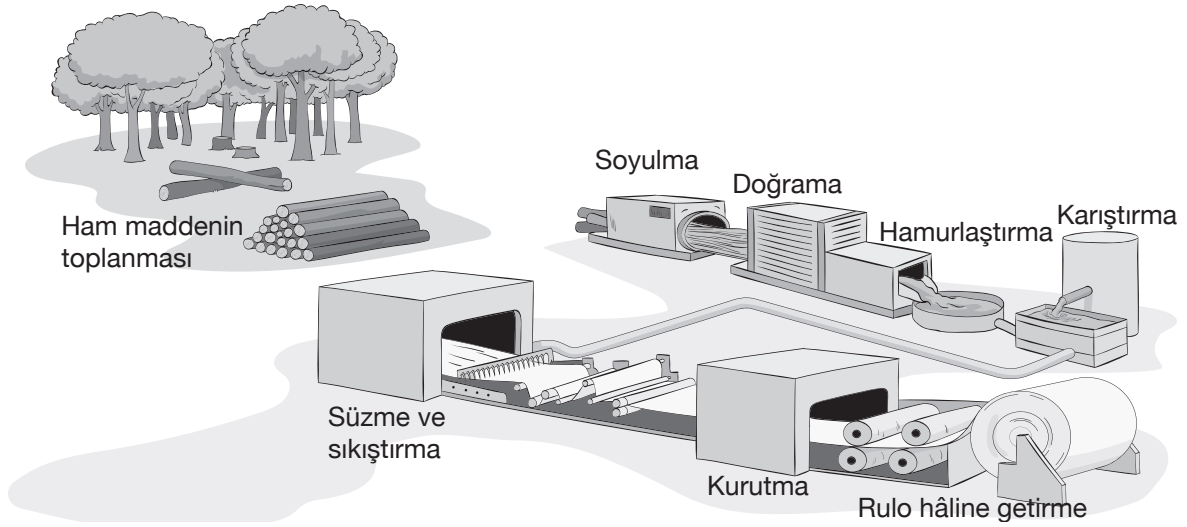
A) Yalnız I.

B) Yalnız III.

C) I ve III.

D) II ve III.

17.



Bu şemaya göre aşağıdakilerin hangisinde kâğıt üretim aşamaları eksiksiz olarak anlatılmıştır?

- A) Ağaçlar kesilip kütük hâline getirilir. Kütükler küçük parçalara ayrılır. Bu parçalar öğütücüye aktarılır. Öğütücünün içinde çeşitli kimyasal maddelerle karıştırılır, hamur hâline getirilir ve karıştırıcıya aktarılır. Karıştırıcıdan çıkan hamur iyice pürüzsüzdür. Daha sonra yürüyen bandın üzerine serilir. Bu bant üzerinde ilerlerken sıkıştırılarak suyu süzülür. Böylece incelik ve kâğıt tabakaları hâline gelir. Son olarak sıcak silindirlerin arasından geçirilir ve kurutulur. Kâğıt, rulolar hâlinde fabrikadan çıkar.
- B) Kesilip kütük hâline getirildikten sonra fabrikaya taşınan ağaçların burada öncelikle dış kabukları soyulur. Daha sonra çok küçük parçalara ayrılan kütükler su ve bazı kimyasallarla karıştırılarak hamur hâline getirilir. Karıştırıcıya aktarılan hamur burada iyice pürüzsüz hâle getirilir. Daha sonra üzeri çok ince tel bir süzgeçle kaplı bantlara dökülür. Burada hamur sıkıştırılarak içindeki fazla su süzülür. Son olarak pürüzsüz bir hâl alan kâğıt, makaralara sarılarak rulo hâline getirilir.
- C) Ağaçlar kesilip kütük haline getirilir. Fabrikaya götürülen kütüklerin dış kabukları makinelerde soyulur. Kütükler kesilerek parçalanır. Bu parçalar, su ve bazı kimyasallarla karıştırılarak hamur hâline getirilir. Karıştırıcıya aktarılan hamur burada iyice pürüzsüz hâle getirilir. Daha sonra üzeri süzgeçle kaplı bantlara dökülür. Burada hamur sıkıştırılarak içindeki fazla su süzülür. Süzgecin üzerinde kalan hamur sıcak silindirlerin arasından geçirilerek kurutulur. Kuruyan kâğıt, rulo hâlinde sarılır.
- D) Ağaçlar kesilip kütük hâline getirilir. Kabukları ayrıldıktan sonra öğütücüye aktarılır. Öğütücünün içinde çeşitli kimyasal maddelerle karıştırılır. Oluşan karışım, hamur hâline getirilir. Hamur bir yürüyen bandın üzerine serilir. Bu bant üzerinde ilerlerken suyu süzülür ve sıkıştırıcı silindirlerin arasından geçirilir. Böylece incelik ve kâğıt tabakaları hâline gelir. Son olarak da sıcak silindirlerin arasından geçirilir ve kurutulur. Kâğıt, büyük rulolar hâlinde fabrikadan çıkar.

18. En az bir tane yapım eki alan fiillere "türemiş fiil" denir. Örneğin "Bahçemizi güller, laleler, menekşeler sardı." cümlesinde "sardı" fiili basit fiil, "Etrafımız düşmanlarla sarıldı." cümlesindeki "sarıldı" fiili ise türemiş fiildir.

Bu bilgilere göre aşağıdaki dizelerde verilen altı çizili sözcüklerden hangisi türemiş fiil değildir?

- A) Vatan senden hayat umar
Sen yaşarsan o canlanır
- B) Niçin oyun biterken en sonra hatırlanır
Hatıralarımızın en tatlı oyunları
- C) Komşunun saksısını sen kuruttun
Kopardın penceresindeki gülünü
- D) Attığım her adımlı biliyorum
Yarın daha güzel, daha aydınlık

19. Ek fiiller, isimlerin ve isim soylu sözcüklerin yüklem görevinde kullanılmasını sağlar, eklendiği basit zamanlı fiilleri birleşik zamanlı yapar. Örneğin ‐Kıyafeti çok güzeldi.‑ cümlesinde ek fiil, isim soylu sözcüğü (güzeldi) yüklem; ‐Kıyafeti dün almıştı.‑ cümlesinde ise basit zamanlı fiili (almış), birleşik zamanlı (almıştı) yapmıştır.

Bu açıklamaya göre,

- Emeklilere bayram ikramiyesi verilecekti.
- Babam lisedeyken başarılı bir öğrenciyim.
- Bu yaz tatil için yurt dışına gidecektik.
- Sınavın zor olacağını düşünüyordum.

cümlelerinin hangisindeki altı çizili sözcükte ek fiil farklı bir görevde kullanılmıştır?

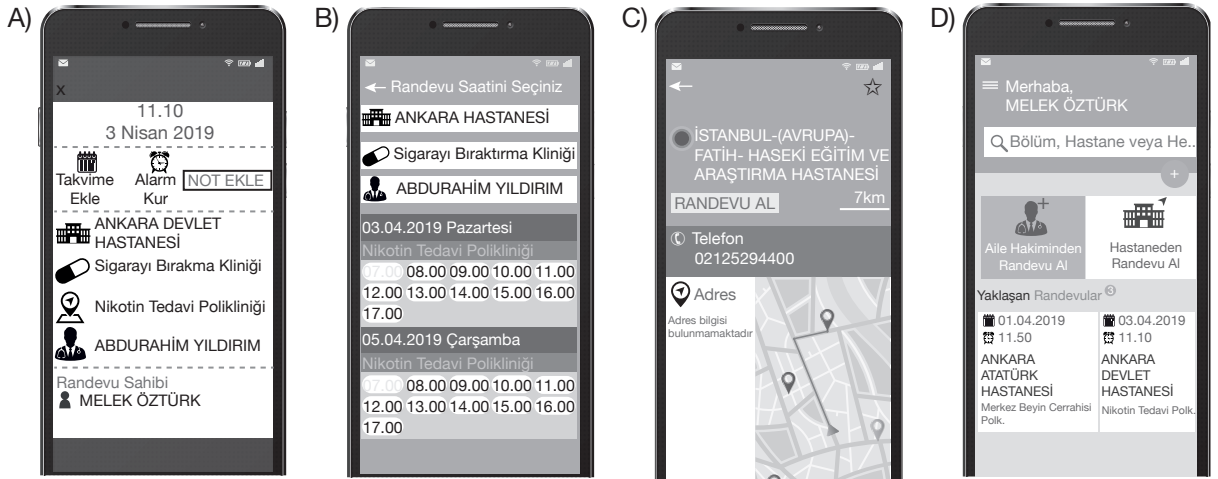
- A) I. B) II. C) III. D) IV.

20. T.C. Sağlık Bakanlığının sunduğu Merkezî Hekim Randevu Sistemi (MHRs) mobil uygulaması, telefon ve tabletler için özel olarak tasarlanmış bir uygulamadır.

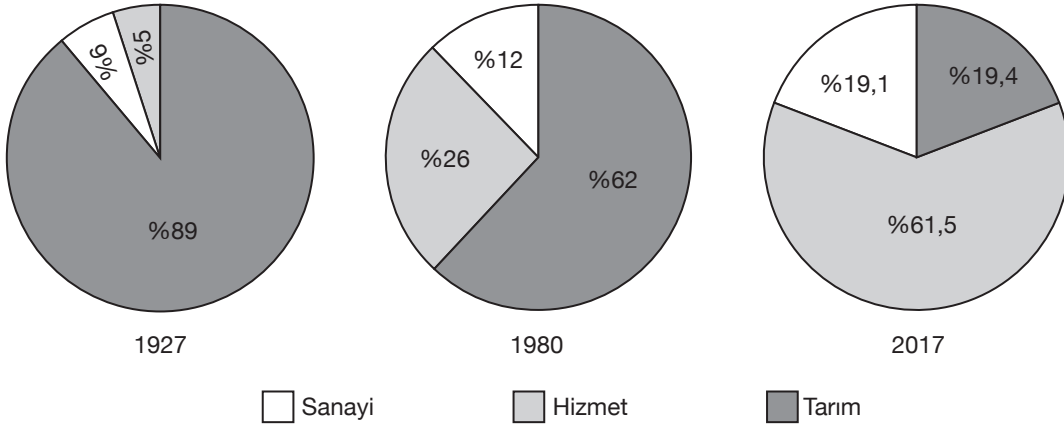
Uygulamanın tanıtım bülteninde şu özellikler yer almaktadır:

- Konunuza en yakın hastane bilgisine ulaşabilirsiniz.
- Seçtiğiniz hekimin günlük randevu saatlerine ulaşabilirsiniz.
- Randevunuza hatırlatma ekleyerek mobil takviminizi işaretleyebilir, not ekleyebilirsiniz.

Aşağıdaki görsellerden hangisi bu metindeki özelliklerden herhangi biriyle ilgili değildir?



1.



1927 - 1980 - 2017 yılları nüfus sayımlarına göre Türkiye’de çalışan nüfusun iş kollarına dağılım grafiğine göre;

- I. 1927 yılında tarım sektöründe çalışan nüfus %90’a yaklaşmıştır.
- II. 1980 yılına gelindiğinde sanayide çalışanların oranı iki katına çıkmıştır.
- III. 2017 yılında çalışanların oranı sektörlere göre eşit olarak dağılmıştır.

gibi yargılardan hangilerine ulaşılabilir?

- A) Yalnız I. B) I ve II. C) II ve III. D) I, II ve III.

2. Osmanlı Devleti’nde ilk nüfus sayımı padişah II. Mahmut döneminde yapılmıştır. Yine bu padişah döneminde ilk Türkçe resmî gazete olan Takvim-i Vekayi yayımlanmaya başlanmıştır. Ayrıca ortaokul seviyesinde eğitim veren rüştiyeler, lise seviyesinde eğitim veren idadi ve sultaniler açılmıştır.

Verilenlere göre II. Mahmut Dönemi ile ilgili aşağıdakilerden hangisi söylenebilir?

- A) Medrese eğitimine son verildiği
B) Avrupa ile ekonomik ilişkilerin geliştirildiği
C) Demokratikleşme yolunda adımların atıldığı
D) Sosyal ve kültürel alanda çalışmaların yapıldığı

3. “Türkiye’den yurt dışına beyin göçü yıllardır sürmektedir. Türkiye’den yurtdışına, geri dönmek üzere giden her iyi eğitim görmüş kişi, ülkenin çok büyük bir değer kaybetmesine neden olmaktadır. Üst düzeydeki niteliklerini değerlendiremeyen ve kariyerini gerçekleştirecek ortamı bulamayan bu insanlar yurt dışına yönelmektedir. Bu beyinler, gelişmiş ülkelere, gelişmekte olan ülkelerin yaptığı karşılıksız bir bağış niteliğindedir.”

Bu görüşe göre aşağıdakilerden hangisi söylenemez?

- A) Gelişmekte olan ülkelere eğitim imkanlarının daha fazla olduğu
B) Beyin göçünün ülkemizi olumsuz yönden etkilediği
C) Nitelikli insanların iş imkanlarının yetersizliğinden dolayı yurt dışına çıktığı
D) Beyin göçünün gelişmiş ülkelere doğru yapılan bir göç hareketi olduğu

4. • Turizm, ülkemizde yerleşmeyi etkileyen bir faktördür. Ege ve Akdeniz kıyılarımızın deniz turizmine uygun olması bu illerimizin nüfus yoğunluğunun özellikle yaz aylarında artmasına neden olmaktadır. Antalya ve Muğla illerimiz bu duruma örnektir.
- Ülkemizde maden çıkarılan ve işletilen yerler, hızla büyüme ve gelişme potansiyeline sahiptir. Zonguldak Ereğli ilçemiz ile Karabük ve Batman gibi illerimiz buna örnek verilebilir.

Buna göre parçada verilen şehirlerin nüfusunun artmasında aşağıdakilerden hangisinin rol oynadığı söylenebilir?

- A) Kültürel özelliklerin
B) Sosyal yapının
C) Beşeri faktörlerin
D) Dış göçlerin

5. Ülkemizde sanayileşme ve kentleşme sürecinin 1950'lerle birlikte hızlanması, İstanbul gibi büyük şehirlerde gerçek anlamda bir nüfus patlamasının yaşanmasına neden olmuştur. İstanbul'un nüfusunun hızla artması beraberinde konut sıkıntısına yol açmış, bu durum da gecekondu mahallelerinin doğmasına ve yol, su ve kanalizasyon gibi alanlarda altyapı sorunlarının ortaya çıkmasına neden olmuştur.

Verilenlere göre İstanbul'da nüfusun hızlı artmasının aşağıdakilerden hangisine zemin hazırladığı söylenebilir?

- A) Hava kirliliğinin yaşanmasına
B) Kadınların da iş hayatına girmesine
C) Nüfus yoğunluğunun azalmasına
D) Düzensiz kentleşmenin ortaya çıkmasına

6.

hızlıhaber

Son Dakika Gündem Spor Eğitim

SON DAKİKA

İtalya'da Başbakan Giuseppe Conte, yeni tip koronavirüsün (Kovid-19) yayılmasının önüne geçmek için yoğun olarak görüldüğü Lombardiya Bölgesi ve 14 kentte, aldıkları son dakika kararı gereği giriş-çıkışlara kısıtlama getiren sıkı bir güvenlik rejimi uygulayarak karantinaya aldıklarını resmen açıkladı.

Verilen bilgilere göre İtalya'da yerleşme ve seyahat özgürlüğünün kısıtlanmasının gerekçesi aşağıdakilerden hangisidir?

- A) Sosyal ve ekonomik gelişmeyi sağlamak
B) Kamu sağlığını korumak
C) Terör ve savaş gibi olayları engellemek
D) Suç işlenmesini önlemek

7. • Tarihin başlangıcı kabul edilen yazının icadıyla insanlar yeni şeyler öğrenerek bilgilerini artırmışlardır. Unutulmasını istemedikleri önemli bilgileri yazarak korumuşlardır.
- Günümüzde Genel Ağ teknolojisinin gelişmesiyle birlikte bilgiler sanal ortamda korunmaya başlanmıştır. Bunlardan biri de Google Drive'dır. Google Drive, Google tarafından oluşturulmuş olan ve yönetilen bir dosya hizmetidir. Bu hizmet sayesinde kullanıcılar doküman depolama ve dosya paylaşma imkanı bulurlar.


Verilenlere göre,

- I. Teknolojinin gelişmesiyle bilginin korunma ve aktarılma sistemi değişmiştir.
II. Günümüzde yazının önemi azalmıştır.
III. Genel Ağ insanlar arası iletişimi zayıflatmıştır.

yargılarından hangilerine ulaşılabilir?

- A) Yalnız I. B) I ve II.
C) II ve III. D) I, II ve III.

8.



İBN-İ HALDUN

Sosyolojinin ve iktisadın öncülerinden kabul edilen 14. yüzyıl düşünürü İbn-i Haldun...

Vefatının üzerinden **614 yıl** geçse de eserleri hala derslerde okutuluyor.

1332 Tunus'ta dünyaya geldi. Asıl adı Ebu Zetd Abdurrahman bin Muhammed bin Haldun el Hadrami'dir. 15 sene kadar Kur'an-ı Kerim-i ezberlemeye, ilim tahsil etmeye çalıştı.

1349 3 kıtayı etkisi altına alan Büyük Veba Salgını'nda ailesini kaybetti.

1375-1383 Yedi cilt olarak yayımlanan el-iber adlı kitabını bu dönemde yazdı.

1377 En ünlü eseri Mukaddime'yi kaleme aldı.

1383-1406 14 senesini Mısır'da kadılık yaparak geçirdi. Bu sırada hacca da gitti.

1406 Kahire'de hayatını kaybetti.

Verilen görsele göre İbn-i Haldun ile ilgili aşağıdakilerden hangisi söylenemez?

- A) En tanınmış eserinin Mukaddime olduğu
- B) Günümüzde de önemini koruduğu
- C) Astronomi alanında yaptığı çalışmalarla tanındığı
- D) Dini bir eğitim aldığı

9. Tarihi süreçte Galilei ve Bruno gibi bilim insanları fikirlerinden dolayı özgür düşünce karşıtları tarafından şiddetli tepkilere maruz kalmışlardır. Bu bilim insanlarının başına gelen bu üzücü olayların bir daha yaşanmaması için 19. yüzyıldan itibaren devletler yasalarında ve uluslararası sözleşmelerde özgür düşüncüyü güvence altına alacak düzenlemeler yapmışlardır. Türkiye Cumhuriyeti Devleti de Anayasası'nda bu tür hükümlere yer vermiştir.

Verilenlere göre özgür düşüncenin korunmasının amacı aşağıdakilerden hangisidir?


- A) Ticari faaliyetleri geliştirmek
- B) Bilimsel gelişmelerin önünü açmak
- C) Kültürel etkileşimi hızlandırmak
- D) Ülkede inanç birliği sağlamak

10. "Ramazan Bayramı, Türklerin en büyük bayramıdır ve bu bayramda övülmeye değer bir şeye uyarlar. Bu, bütün düşmanlarından özür dilemeleri ve onlarla barışmalarıdır. Çünkü eğer kalplerinde birine karşı kötülük varsa bayram yapamayacaklarına inanırlar ve bu üç gün zarfında tanıdıkları kimselere rastlarsa onlarla öpüşürler ve birbirlerine iyi bayramlar ve mutluluklar dilerler."

Verilenlere göre ünlü seyyah Jean Thevenot Osmanlı toplumunun hangi yönüne dikkat çekmiştir?

- A) Askeri yapısı
- B) Ekonomik hayatı
- C) Siyasi anlayışı
- D) Sosyal ilişkileri

6.



“Onların etleri ve kanları asla Allah’a ulaşmaz. Fakat ona sizin takvanız (Allah’a karşı gelmekten sakınmanız) ulaşır. Böylece onları sizin hizmetinize verdi ki size doğru yolu gösterdiğinden dolayı Allah’ı büyük tanıyasınız. İyilik edenleri müjdele.”

(Hac suresi, 37. ayet)

Bu ayette kurban ibadetiyle ilgili aşağıdaki hususlardan hangisi vurgulanmıştır?

- A) Ne zaman kesilmesi gerektiği
- B) Allah için yapılması gerektiği
- C) Hangi hayvanların kurban edileceği
- D) Kurban etinin nasıl dağıtılacağı

7. İslam dini, insanı sorumlu bir varlık olarak kabul etmiş ve davranışlarından sorumlu tutmuştur. Yüce Allah, toplumlara peygamber göndererek onlara sorumluluklar yüklediğini bildirmiştir.

Buna göre, aşağıdaki ayetlerden hangisi bu düşünceyle ilişkilendirilemez?

- A) “O, Peygamberini hidayet ve hak din ile gönderendir...”
(Fetih suresi, 28. ayet)
- B) “Nitekim aranızdan size bir peygamber gönderdik: O size âyetlerimizi okuyor, sizi arıtıp temizliyor, size kitabı ve hikmeti öğretiyor; yine size daha önce bilmediklerinizi öğretiyor”
(Bakara suresi, 151. ayet)
- C) “O ölüden diriyi, diriden de ölüyü çıkarıyor ve yeryüzünü ölümünün ardından canlandırıyor. İşte siz de böyle çıkarılacaksınız.”
(Rum suresi, 19. ayet)
- D) “Doğrusu biz seni hak ile desteklenmiş bir müjdeleyici ve uyarıcı olarak gönderdik. Hiçbir ümmet yoktur ki içlerinden bir uyarıcı gelip geçmemiş olsun.”
(Fatır suresi, 24. ayet)

8. “Askıda ekmek” projesinden etkilenen simitçi Semih Bey “Askıda simit” uygulamasıyla, yeterli parası olmayanların simit yemelerine vesile olmaktan son derece memnundur. Bu uygulamanın yeni başladığını söyleyen Semih Bey, cebinde harçlığı olmayan bir üniversite öğrencisine bir tane simit verir. Simidi yiyen öğrenci çok mutlu olur ve bu durumu diğer zorda olan arkadaşlarına da söyler.

Bu metinde anlatılan uygulama aşağıdaki ahlaki tutumlardan hangisine örnek gösterilebilir?

- A) Vatanseverliğe
- B) Yardımseverliğe
- C) Adil olmaya
- D) Dürüstliğe

9. Din kültürü ve ahlak bilgisi öğretmeni Nurgül Hanım, derste hac ibadetiyle ilgili görevleri şu şekilde sıraladı:

- İhrama girme
- Arafat vakfesi
- Şeytan taşlama
- Kurban kesme
- Ziyaret tavafı

Bu görevlerden hangileri haccın farzlarındandır?


- A) Kurban kesme, ihram ve vakfe
- B) Şeytan taşlama, kurban kesme ve ihram
- C) Şeytan taşlama, ziyaret tavafı ve vakfe
- D) Ziyaret tavafı, ihram ve vakfe

10. “Sûra üflenince Allah’ın diledikleri müstesna olmak üzere göklerde ve yerde ne varsa hepsi ölecektir. Sonra ona bir daha üflenince bir de ne görürsün, onlar ayağa kalkmış bakıyorlar!”
(Zümer suresi, 68. ayet)

Bu ayette altı çizili bölümde aşağıdaki kavramlardan hangisine değinilmektedir?

- A) Mizana
- B) Dirilmeye
- C) Sorguya
- D) Hesaba

1. Jenny is dreaming about her future.



Which of the following is NOT one of Jenny's speech bubbles?

- A) I'll take care of nature and animals.
- B) I'll travel all over the world.
- C) I'll be a doctor and find cures for diseases.
- D) I'll graduate from university.

- 2.

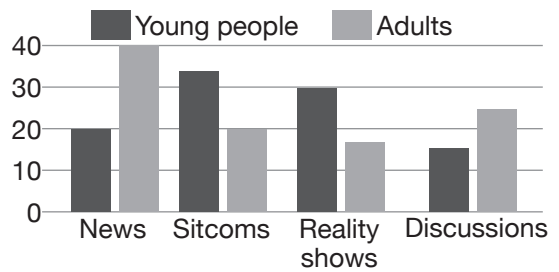


My grandfather, John was an honest and generous person. He was more hardworking than me. He met my grandmother at university, and they got married in 1950. Then, they founded a company and worked there together. When they got retired, they started to live in a small village. He died at the age of 70.

Which of the following questions DOES NOT have an answer above?

- A) When did John get married?
- B) What was John like?
- C) What did John study at university?
- D) How old was John when he died?

3. Susan did a survey on TV programme preferences of 100 people. Here are the results:



Which of the following is CORRECT according to the graphic?

- A) Young people rarely prefer watching sitcoms.
- B) Adults' favourite programmes are the news and sitcoms.
- C) Some adults prefer watching discussions to watching reality shows.
- D) Both young people and adults prefer the news most.

4.



Which of the following is **CORRECT** according to the text above?

- A) Sue doesn't like watching movies.
- B) Eva invites her friends to her house.
- C) Meg accepts the invitation.
- D) Nina refuses the invitation.

5.



I will work hard.
I will become a professor.
I will achieve great success.
I will receive a Nobel Prize.

According to the information above, Helen has some predictions about her future - - - - .

- A) career
- B) hobbies
- C) family
- D) feelings

6.



Tony is a professional tennis player. He has a hard training programme. He gets up early, takes exercise and goes training every day. He spends time with his friends in the afternoons. He always eats healthy food and never goes to bed late.

According to the text, Tony - - - - .





- A) trains tennis twice a week
- B) sleeps early every day
- C) doesn't go on a healthy diet
- D) never meets his friends

7. Tina is organizing a surprise birthday party for her mum. First, Tina will prepare a guest list. Next, she will send the invitation cards to her mother's friends and relatives. Then, she will buy a delicious birthday cake, some food and drinks for the party. Finally, she will decorate the place with photos and balloons.

Which of the following is **CORRECT** according to the text?

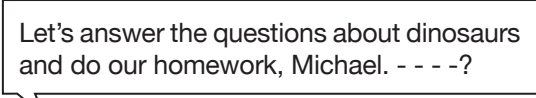
- A) Tina will decorate the place after she buys the food and drinks.
- B) Tina and her mum will make a birthday cake.
- C) Tina doesn't need any balloons for the party.
- D) Before preparing a guest list, Tina will send the invitation cards.

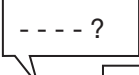
8. There is a farewell party for Bob at Window C afe and Bob's friends will bring things. Here is the list of the things they will bring:


 SUSAN <ul style="list-style-type: none"> • Cake • Pizza • Crisps 	 JACK <ul style="list-style-type: none"> • Orange juice • Lemonade • Coke 	 HELEN <ul style="list-style-type: none"> • Music CDs • Presents • Candles 	 WILLY <ul style="list-style-type: none"> • Balloons • Confetti • Party hats
--	--	---	---

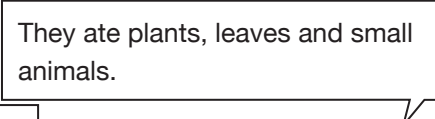
Who will bring beverages?

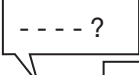
- A) Willy B) Susan C) Helen D) Jack

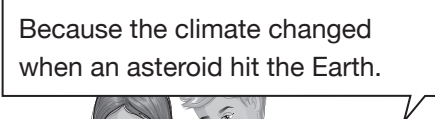
9. 


















Which of the following questions DOES NOT Susan ask Michael?

- A) How long did they live in the world
 B) When did an asteroid hit the Earth
 C) What did they eat
 D) Why did they become extinct

10. John is playing a game with his friends. He wrote some predictions about the future and asked his friends to complete them according to the signs. Here are the signs and predictions:

-  die of diseases
 poison soils
 give more harm
 invent new things

1. Pollution will - - - - to the environment.
 2. Technology will grow faster and scientists will discover and - - - - .
 3. People will live longer because they won't - - - - like cancer.

Which of the following DOES NOT complete the text above?

- A)  B)  C)  D) 